

Шифр: А-36

Всероссийская олимпиада школьников
Региональный этап
по математике
2018/2019
Ленинградская область

Район Киришский район

Школа ШОУ «Киришский лицей»

Класс 9 «Б»

ФИО Киришов Даниил

Константинович

Чистовик.

1	2	3	4	5	Σ
7	5	x	0	0	12

A-36

2) Если предположить, что рыцарь сказал, "Мое число меньше 1", тогда его число $x \leq 0$, что неверно, т.к. рыцарь не может солгать, сказав вторую фразу, значит один точно лжец.

Если предположить, что рыцарь сказал "Мое число меньше 2", тогда его число $x \leq 1$, что неверно, так же как и в первом случае; значит два лжеца точно есть.

Если предположить, что рыцарь сказал, что его число меньше 3, тогда он и сказал, что его число больше 1.


Получим: числа рыцарей:

- $1 < x < 3; x = 2$
- $2 < x < 4; x = 3$
- $3 < x < 5; x = 4$
- $4 < x < 6; x = 5$
- $5 < x < 7; x = 6$
- $6 < x < 8; x = 7$
- $7 < x < 9; x = 8$
- $8 < x < 10; x = 9$

Тогда лжецы сказали, что их числа меньше 1, меньше 2, больше 9, больше 10. Т.к. в условии не сказано, что числа различные, то такое вполне может быть, значит максимум может быть 8 рыцарей.


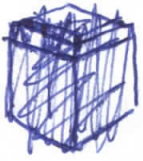
5) Рассмотрим куб в разрезе. Возьмем одну грань (1000x1000x1) и на её примере посмотрим, какое кол-во кубиков можно максимум раскрасить.

Т.к. площадь: 2, то лучший вариант - разбить на клетки в шахматном порядке. Получим:



В таком случае на каждой грани будет по 5000 тыс. закрасочных кубиков.

Рассмотрим куб в объемном изображении:



Из рисунка видно, что каждый крайний ряд грани принадлежит и другой грани, тогда общая площадь левой, правой, передней и задней грани равна:

$4 \cdot 1000^2 - 4000 = 3996000$ кубиков, тогда общая площадь верхней

и нижней: $2 \cdot 998^2 = 996004 \cdot 2 = 1992008$, тогда общая площадь:

$3996000 + (996004 \cdot 2) = 3996000 + 1992008 = 5988008$ кубиков, значит

закрасочны из них $\frac{5988008}{2} = 2994004$ кубика.

Ответ: 2994004 кубика закрасочны.

1) П.р. квадратные трехчлены приведены, то $a_1 = a_2 = 1$.

Получим: $A_1(x) =$

$$f(x): x_1 = \frac{-b_1 + \sqrt{D_1}}{2a}$$

$$x_2 = \frac{-b_1 - \sqrt{D_1}}{2a}$$

$$g(x): x_3 = \frac{-b_2 + \sqrt{D_2}}{2a}$$

$$x_4 = \frac{-b_2 - \sqrt{D_2}}{2a}, \text{ тогда:}$$

$$x_1 + x_2 + x_3 + x_4 = \frac{-2b_1 + \sqrt{D_1} - \sqrt{D_1} - 2b_2 + \sqrt{D_2} - \sqrt{D_2}}{2a} = \frac{-2(b_1 + b_2)}{2} = -(b_1 + b_2).$$

Приведенный квадратный трехчлен имеет вид:

$$ax^2 + bx + c = 0, \text{ где } a = 1.$$

$$\begin{cases} 1 + b_1 + c_1 = 4 + 2b_2 + c_2, \\ 4 + 2b_1 + c_1 = 1 + b_2 + c_2 \end{cases} | \cdot (-1)$$

$$\begin{cases} 1 + b_1 + c_1 = 4 + 2b_2 + c_2, \\ -3 - b_1 = 3 + b_2 \end{cases}$$

$$\begin{cases} 1 + b_1 + c_1 = 4 + 2b_2 + c_2, \\ -3 - b_1 = 3 + b_2 \end{cases}$$

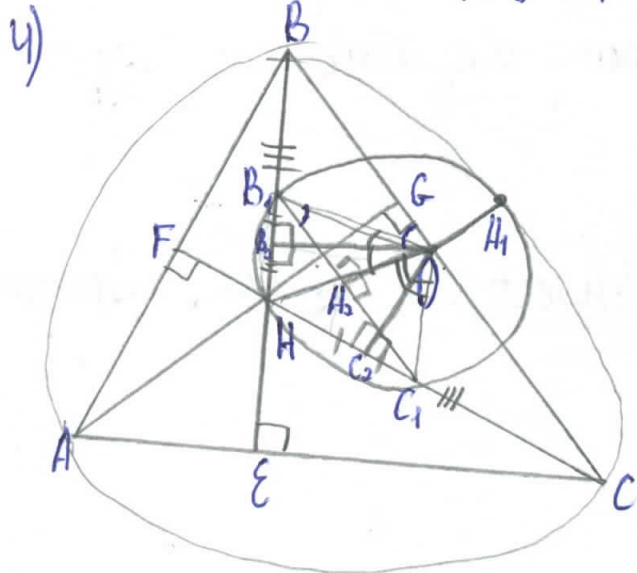
$$-3 - b_1 = 3 + b_2$$

$$-b_1 - b_2 = 6, \text{ значит } x_1 + x_2 + x_3 + x_4 = -(b_1 + b_2) = 6$$

3) Предположим, что по часовой стрелке числа возрастают; т.к. при делении меньшего натурального числа на большее в остатке остаётся само это число, то это невозможно, т.к. в остатке должно получиться лишь два числа (x или y).

Если числа будут идти в разном направлении, например $n_1 > n_2 < n_3 > n_4$, то при делении большего на меньшее может получиться какой-то одинаковый остаток, но при делении меньшего на большее будет само это число, а т.к. все числа различны, то это не удовлетворяет условию, значит по часовой стрелке числа убывают.

Т.к. по часовой стрелке числа убывают, то они могут давать в остатке два различных числа (x или y), но при этом против часовой стрелки они будут возрастать и давать в остатке самого себя, а т.к. числа различны, то и остатки будут различны, что



Дано: $\triangle ABC$
 $AG \perp BC, CF \perp AB, BE \perp AC$
 $BE \cap AG \cap CF = H$
 $BC_1 \parallel BC$
 окр $(O; R)$ - описанная
 $R = OH = OE_1 = OB_1$
 Д-ть: окр Γ касается окр $(O; R)$

Док-во:

1) П.р. OH, OB_1, OC_1 - радиусы, то $OH = OB_1 = OC_1$,

2) Проведем срединные перпендикуляры из $\triangle B_1HC_1$; они пересекутся в точке O - центр описанной окружности. П.р. $\triangle B_1OH, \triangle OH C_1$ - равнобедр., то по св-ву OB_2, OC_2 - медианы, высоты и биссектрисы

3) Рассмотрим $\triangle B_1OH_2$ и $\triangle OC_1H_2$:

1. $OB_1 = OC_1$ как радиусы окружности

2. OH_2 - общая сторона

3. $B_1H_2 = H_2C_1$ по построению (п.2)

Значит по трем сторонам $\triangle B_1OH_2 = \triangle OC_1H_2$.

4) П.р. ~~$\triangle B_1OH_2 = \triangle OC_1H_2$~~ , то

П.р. $\triangle OH_2C_1$: $\angle OH_2C_1 = 90^\circ$, то $\angle H_2OC_1 + \angle OC_1H_2 = 90^\circ$.

П.р. $B_1C_1 \parallel BC$, то $\angle OC_1H_2 = \angle C_1OC$ как какрест лежащие углы при секущей C_1O , тогда $H_2O \perp BC$, значит $HO \perp BC$.

5) П.р. $HO \perp BC$, O - центр описанной окружности, то HO - срединный перпендикуляр, тогда $\triangle BHC$ - равнобедренный.

6) $\triangle BHF = \triangle CHE$ по гипотенузе и острому углу ($\angle BFA = \angle HEC = 90^\circ$)

1. $HC = BH$ по доказанному

2. $\angle FHB = \angle EHC$ по св-ву вертикальных углов.

Тогда $HF = HE$, значит $CF = BE, BF = EC$.

7) $\triangle ABE$: $\angle AEB = 90^\circ = \angle CFA$: $\angle CFA = 90^\circ$ по катету и противолежащ. углу:

1. $BE = CF$ по доказ.

2. $\angle A$ - общий

Тогда $AE = AF$, значит $\triangle ABC$ - равнобедр. и точка O совпадает с точкой G .

61) П.р. даны 4 последовательных числа, то это числа:
 $x; x+1; x+2; x+3$; при $x > 100$.

Если x - четное, то:

$$(x+1) + (x+2) + (x+3) = 3x+6$$

$$\frac{3x+6}{3} = x+2$$

$$\frac{x+2}{2} = 0,5x+1 \text{ (т.р. } x \div 2)$$

$$\frac{0,5x+1}{0,5x+1} = 1.$$

П.р. $x > 100$, то $0,5x+1 > 51$, значит все делители различны.

Если x - нечетное, то

$$x + x+1 + x+2 = 3x+3$$

$$\frac{3x+3}{3} = x+1$$

$$x+1 - \text{нечетное число, тогда } \frac{x+1}{2} = 0,5x+0,5.$$

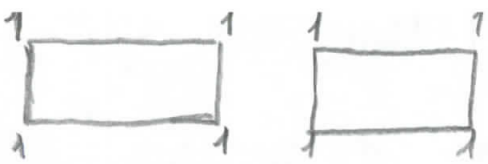
П.р. x - число нечетное, то $0,5x+0,5$ - число натуральное, тогда

$\frac{0,5x+0,5}{0,5x+0,5} = 1$, значит сумма $x+x+1+x+2$ имеет 3 различных натуральных делителя: $3; 2; 0,5x+0,5 > 50,5$.

72) П.р. ~~прямоугольники~~ стороны прямоугольников параллельные сторонами стола, прямоугольники не могут иметь 4 общие вершины, то они могут иметь $0 \leq x \leq 2$ в общих вершин. П.р. ~~два прямоугольника~~ не могут иметь 3 общие вершины, то

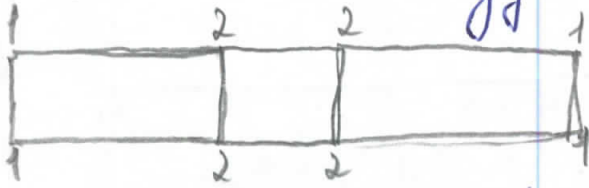
Положим два прямоугольника так, что они не имеют общих вершин, но одна пара сторон лежит на одной прямой:

6	7	8	9	10	Σ
7	7	0	0	0	75

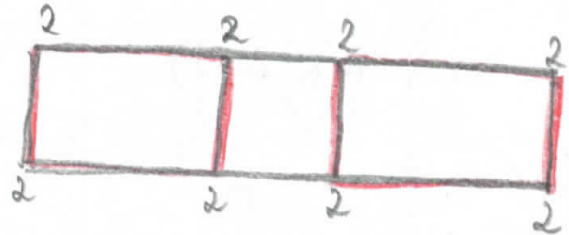
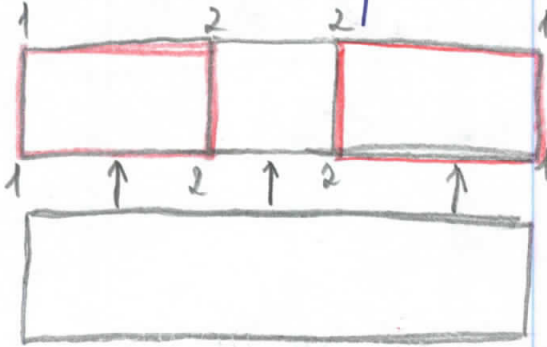


Цифрами обозначим, к скольким прямоугольникам принадлежит вершина.


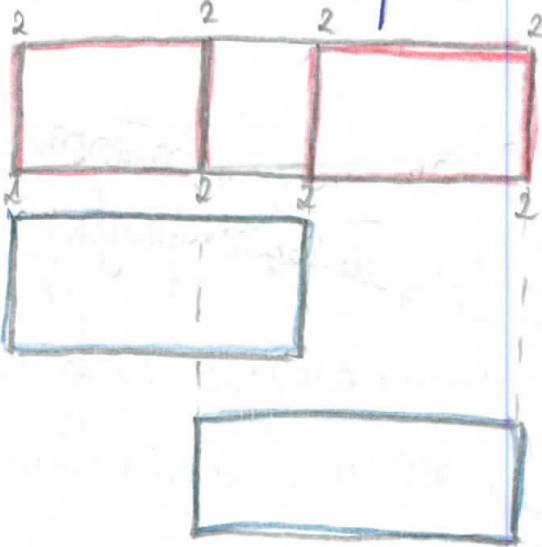
Вместим между ними ещё один прямоугольник:



Затем накроем всё это ещё одним прямоугольником:



Затем накроем это ещё двумя прямоугольниками:



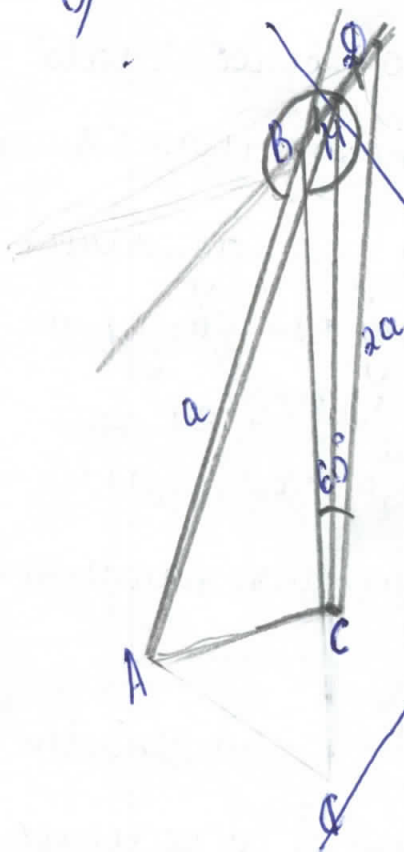
Получили, что каждая вершина принадлежит ровно трём прямоугольникам.

105) П.р. Тете нужно, чтобы получилось наибольшее число, по ему следует выписать 100 одинаковых неотрицательных чисел, т.к. если он ~~выпишет~~ выберет хоть два различных числа, то он даст Васе пусть x к меньшему произведению, т.к. в сумме все числа должны давать 1; для Тети это недопустимо, значит он ~~выпишет~~ выберет $x_1 = x_2 = x_3 = \dots = x_{100} = 0,01$.

После этого у Васи уже не будет выбора, и он напишет на доске число 0,0001.

9) Рассмотрим произвольный n -угольник. В нём может быть $(n-3)$ диагоналей, проведённых из одной вершины. Всего же их в n -угольнике получится $n(n-3)$, где n -ка-во вершин. В данном случае нас интересуют n -угольники, где либо одна закрашенная вершина (чёрной вершина), либо одна, закрашенная белым, т.к. при других исходах диагонали разноцветные будут пересекаться внутри n -угольника, а диагонали, проведённые из одной вершины не пересекаются. П.р. окрасить одну вершину в белый можно n способами, а окрасить одну вершину в чёрной тоже n способами (т.к. n -ка-во вершин), то всего „хороших“ раскрасок $2n$.

8)

Дано: $\triangle ABC$ $D \in BC$; BD - биссектриса ($\angle ABD = \angle CBD$) $\angle BCD = 60^\circ$ $CD = 2AB = 2a$ $AB = a$ $AM = MD$ Д-ть: $\triangle AMC$ - равнобедр.

Доказ-во:

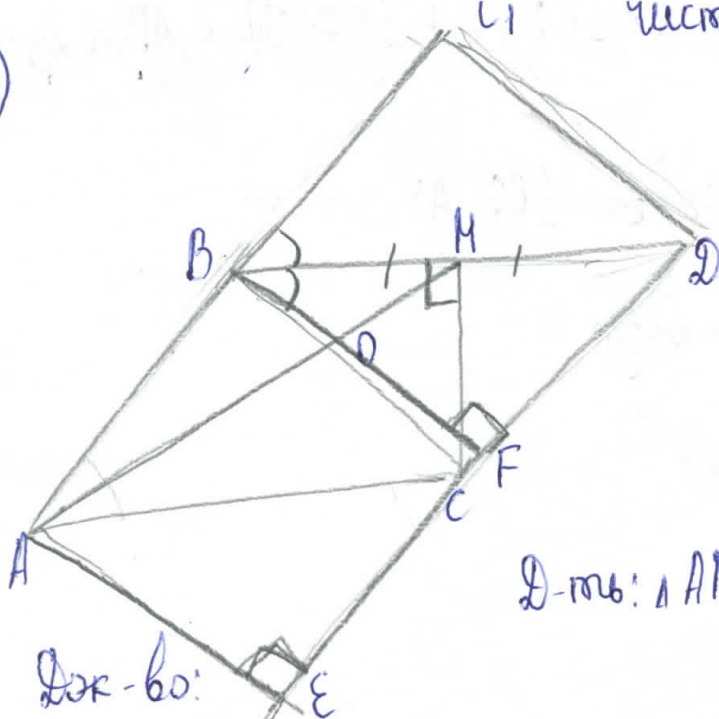
10) П.р. сумма дробей составит 1, то:

$$x_1 + x_2 + x_3 + \dots + x_{100} = 1.$$

П.р. Васе нужно разбить числа на 50 пар, то Лете необходимо среди 100 чисел выбрать 49 чисел; тем самым он не позволит Васе получить 0 и увеличит минимальное произведение; затем он должен выписать $\frac{1}{51}$ 51 раз; так он сможет получить наибольшее произведение; у Васи не будет выбора и на доске появится число $\frac{1}{2601}$.

8)

уставил.



Дано: $\triangle ABC$

BD - внешняя биссектриса;

$\angle CBD = \angle DBC_1$

$BM = MD$

$CD = 2AB$

$\angle BCD = 60^\circ$

Д-ть: $\triangle AMC$ - равнобедр.

Док-во:

- 1) Построим точку C_1 симметричную C относительно прямой BD .
- 2) П.к. $BC \parallel C_1D$, то $\angle CBD = \angle DC_1B$ как накрест лежащие углы при $BC \parallel C_1D$ и секущей BD , тогда $\triangle BC_1D$ - равнобедр., значит $\angle C_1BD = \angle C_1DB$. П.к. $\angle BCD = 60^\circ$, то $\triangle BC_1D$ - равносторонний.
- 3) $\triangle BC_1D = \triangle BCD$ по 2-м сторонам и двум прилежащим углам:
 1. BD - общая сторона
 2. $\angle C_1BD = \angle DBC$ по уcu.
 3. $\angle CBD = \angle C_1DB$ как накрест. лежа. углы при $BC \parallel C_1D$ и секущей BD .
- 4) Тогда $\triangle BCD$ - равносторонний, значит $BD = BC = CD$; $\angle DBC = \angle BCD = \angle BDC$.
- 5) П.к. $\triangle BCD$ - равносторонний, то CM - высота и биссектриса, тогда $\angle BMC = \angle CMD = 90^\circ$. $\angle ABC = 60^\circ$ как смежный с $\angle C_1B = 2\angle CBD$.
- 6) $AB \parallel C_1D$, т.к. $\angle ABC = \angle BCD$, а это накрест лежащие углы при секущей BC .
- 7) П.к. $AB = \frac{1}{2}CD$, то $AB = BM = MD$, тогда $\triangle ABM$ - равнобедренный, значит $\angle BAM = \angle BMA = 30^\circ$.

8) Изучили перпендикуляры $AE \perp CD$, $BF \perp CD$. Т.р. $AB \parallel CD$, то по св-ву $\angle EAB = 90^\circ$.

~~9) Т.р. $\angle BCM = 30^\circ$, то по св-ву $BM = \frac{1}{2}BC = \frac{1}{2}CD = AB$, значит~~

9) $\angle AMC = 90^\circ - \angle BMA = 60^\circ$.

$\angle MAC = 60^\circ$, значит $\triangle AMC$ - равнобедр.